



第 6 章

智慧財產權與軟體授權

6-1 智慧財產權

103 114

一、認識智慧財產權

1. 智慧財產：一般人的創意、商譽和專業技術等腦力勞動的結晶，如寫作、畫作、音樂、舞蹈、圖形、視聽、電腦程式等。
2. 政府制定有**著作權法**、商標法、專利法、營業秘密法、積體電路電路布局保護法來保護**智慧財產權**。
3. 我國著作權主管機關：**經濟部**。

二、我國著作權法的相關規定

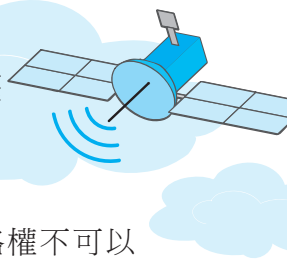
1. 保障著作人：
 - a. 著作人**完成著作時**即享有著作權（不需註冊或登記）。
 - b. 著作權存續年限：著作人**生存期間及其死亡後50年**。若為共同著作，則為最後死亡之著作人死亡後50年。若著作人死亡後40~50年才發表，則保護期間為發表後10年。攝影、錄音、視聽之著作權存續至作品發表後50年。
 - c. 著作權分為**著作人格權與著作財產權**，在無契約約定的情況下，受僱於公司的著作人於職務上完成之著作，其**著作人格權屬作者，著作財產權屬公司**；若有契約約定，則從其約定。
 - d. 著作財產權：包含重製權、公開播送權、公開傳輸權等。著作財產權可以全部、部分轉讓或授權他人行使。



權利項目	說明
重製	以印刷、複印、錄音、錄影、攝影、筆錄或其他方法直接、間接、永久或暫時之重複製作，或依設計圖／模型建造建築物
公開播送	以廣播系統向公眾傳達著作內容
公開傳輸	透過網路或其他通訊方法向公眾提供或傳達著作內容
公開展示	向公眾展示著作內容
改作	以翻譯、編曲、改寫、拍攝影片或其他方法就原著作另為創作

🕒 **五秒自測** 著作權的取得時機及保障期限為何？





- e. 著作人格權包含：公開發表權、姓名表示權、禁止不當修改權。著作人格權不可以事先拋棄或是繼承、轉讓。
2. 保障合理使用著作物：
 - a. 教師為了授課需要，可在**合理範圍**重製他人著作，例如教師因授課需求，播放一小段電影，屬合理範圍；但若播放整部電影，即可能超出合理範圍。
 - b. 個人或家庭**不以營利**為目的，可在合理範圍重製他人著作。
 - c. 只要**不從事營利行為**，可以公開表演他人著作。
 - d. 在合理範圍內重製他人著作，應註明資料來源。
 3. 保障電子著作物：
 - a. 合法擁有電腦軟體者，**可以修改程式或備份軟體**，但不可提供給他人使用。
 - b. 書籍、錄影帶等著作可以出租，但錄音及電腦程式等著作不得出租。
 - c. 販售或散布盜版軟體、音樂都屬於違法行為。
 - d. **合法軟體不能安裝在超過授權數量的電腦上**，如授權5台電腦，最多只能安裝在5台電腦上。
 4. 不受著作權法保護，任何人皆可自由使用的資料：
 - a. 憲法、法律、命令或公文（含公務員於職務上草擬之文告、講稿、新聞稿）。
 - b. 中央或地方機關就前款著作作成之翻譯物或編輯物。
 - c. 標語及通用之符號、名詞、公式、數表、表格、簿冊或時曆。
 - d. 單純為傳達事實之新聞報導所作成之語文著作。
 - e. 依法令舉行之各類考試試題及其備用試題（如四技二專聯招考題）。

有背無患

1. **專利權**（patent right）：指創作者將發明、新型或設計的創作向主管機關（在我國為經濟部智慧財產局）申請，經審查核准後所取得的專利獨享權利。
2. **DRM**（數位版權管理）：保護數位檔案版權的技術，可以限定檔案的使用條件，如限定某首歌的播放次數，或是只能用特定的程式來播放，以防止檔案遭到盜版。
3. **DRM常見應用**：KKBOX線上音樂、Spotify、Kindle線上電子書店等服務，都有使用DRM技術來保護檔案防止盜版。
4. **Copyright vs. Copyleft**：Copyright © 代表具有著作權，不可任意複製、散布、改作；Copyleft ☺ 則代表開放版權，允許自由使用、散布、改作，但所衍生之作品必須延續使用Copyleft授權。
5. **P2P檔案交換軟體**（如eMule）可讓網友交換彼此電腦中的檔案，但若網友利用這類軟體分享未經授權的檔案，將觸犯著作權法。

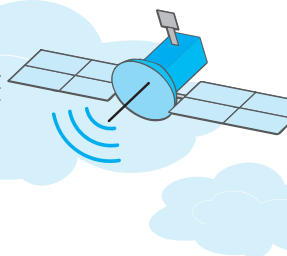




得分區塊練

- () 1. 著作權法保護各種創作，有關智慧財產權的敘述，下列何者錯誤？ (A)電腦程式受著作權法保護 (B)將從網路下載的圖片加上自己的圖形或文字做成海報，違反著作權法 (C)智慧財產權保障的是人類思想、智慧、創作而產生具有財產價值的產物權利 (D)程式設計師受雇於某公司，公司為雇用人，程式設計師為受雇人；在無其他契約約定情況下，其於職務上所開發完成的程式，公司為著作人。
- () 2. 程式設計師受雇於某公司時，替該公司寫了一套商用軟體。下列有關此套商用軟體的著作權利歸屬（假設雙方於訂約時無特別約定者）之敘述，何者正確？ (A)著作人與著作財產權皆屬公司 (B)著作人與著作財產權皆屬程式設計師 (C)著作人屬公司，著作財產權屬程式設計師 (D)著作人屬程式設計師，著作財產權屬公司。
- () 3. 下列何者是符合著作權的行為？ (A)與好友分享MP3檔案 (B)在網路張貼自己的心情故事 (C)蒐集他人精美網頁集冊出售 (D)在網站上張貼別人的奇文妙語。
- () 4. 下列何種是智慧財產權正確的使用觀念？ (A)使用盜版光碟（大補帖）安裝軟體 (B)拷貝同學的電腦程式檔，繳交作業 (C)下載試用版軟體加以破解，才可以永久使用 (D)架設網站時，所使用有版權圖片需經過授權。
- () 5. 下列何者屬於侵害智慧財產權的行為？
(A)向朋友借有版權的CD來欣賞
(B)將自己購買的軟體複製給好友使用
(C)在網路上公佈自己撰寫的程式碼
(D)使用寬頻分享器讓多台電腦使用同一個ADSL帳號上網。
- () 6. 下列何者為守法行為？ (A)某電視台未付權利金，就逕自播放歌曲 (B)阿雄將近年來流行排行榜歌曲剪接翻錄作精選集出售 (C)阿貴在夜市販賣仿冒的勞力士錶 (D)阿櫻在電腦專賣店購買一套有版權的遊戲軟體。
- () 7. 有關「著作權」之敘述，下列何者正確？
(A)使用精美、特殊圖片或有版權的卡通圖案作為報告裝飾，仍應取得授權
(B)著作權保護表達形式，也保護製程及概念
(C)利用繪圖軟體練習編修同學的個人照片，雖未經照片當事者同意，仍可email給全班同學
(D)購得合法電腦軟體，因備份需要重製，且與好友分享。
- () 8. 繪畫大師在95年7月30日創作完成一幅畫，但不幸在99年4月4日死亡，請問這幅畫的著作財產權存續至哪一天？
(A)145年7月30日
(B)145年12月31日
(C)149年4月4日
(D)149年12月31日。 [乙級軟體應用]
- () 9. 直接引用下列哪一項著作的內容，最可能侵犯著作權？
(A)論語 (B)聖經 (C)史記 (D)林志玲為電影刺陵主題曲寫的歌詞。
- () 10. 購買原版的應用程式光碟之後，下列使用方法何者符合智慧財產權的規範？
(A)隨意複製到多部電腦硬碟上 (B)依授權安裝到自己的電腦上
(C)拷貝多份備份光碟，以備不時之需 (D)透過網路分享好朋友。





6-2 軟體的授權

一、授權範圍不同的軟體類型

102 111 112 113 114

軟體別	比較項目	保有 著作權	免費複製 及使用	開放 原始碼	說明	範例軟體
公用軟體 (public domain software)			✓		可自由複製	SQLite (資料庫軟體)、 FreeCAD
免費軟體 (freeware)		✓	✓		不可用於營利用途或 修改	Adobe Reader、 iTunes
共享軟體 (shareware)		✓	試用期間 不須付費		試用期間通常功能會 有限制，試用期滿必 須付費購買才能取得 合法使用權	WinRAR、 Photoshop試用版、 PaintShop Pro試用版
自由軟體 (free software)		✓	可銷售， 不一定免 費	✓	1. 可自由複製、散布 與修改 2. 又稱開放原始碼 軟體	Scratch、 7-zip、Linux、 OpenOffice、 Firefox
商業軟體 (Commercial software)		✓			通常須付費購買才能 使用	Word、Excel

🔑 解題密技 上表的5種軟體是統測命題的重點，同學必須能分辨其差異

目前有許多商業軟體提供試用體驗來吸引使用者，但本質上仍屬於「商業軟體」，試用只是促銷手段，並不改變其商業性質

1. 自由軟體 vs. 免費軟體：**自由軟體開放原始碼**，而免費軟體則沒有。
2. **開放原始碼** (open source)：指公開軟體的程式碼，供其他人能自由複製、散布與修改，但修改後的程式必須維持開放原始碼的原則。

🕒 五秒自測 免費軟體、自由軟體有何差異？

3. GNU GPL (GNU General Public License)：是一種**自由軟體的授權聲明**。
4. 使用GPL散布的自由軟體賦予使用者以下自由：
 - a. 可自由將軟體用在各種不同用途（如商業、學術等）。
 - b. 可修改軟體原始碼。
 - c. 可複製及散布軟體。
 - d. 可將修改後的軟體散布給他人使用。
5. **綠色軟體**：製作成**免安裝**形式的各式軟體，常被儲存在可攜式裝置（如隨身碟）中，故也稱為「可攜式軟體」。



有背無患

- 請注意，我們購買的軟體，通常只取得軟體的使用權，並不包含散布、改作等權利。
- 為了拓展市場，有些軟體廠商會將其產品區分為下列4種版本來銷售：

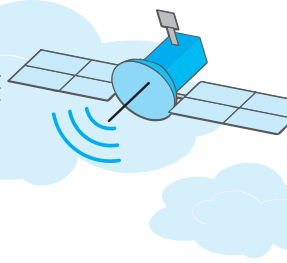
版本種類	授權對象	使用注意事項
零售版	軟體購買者	軟體購買者只買到軟體的使用權，非軟體的所有權，所以不能轉售軟體 ^註
隨機版	單一台電腦	只能安裝在搭配銷售的電腦上；一旦電腦毀壞，使用權即消失
大量授權版	視授權條款而定，通常是某一單位的人員（如學校）	通常有授權期間及數量的限制，超過授權期限即不能再使用
雲端版	取得會員帳號的使用者	可直接線上使用軟體，通常採包月制或包年制的授權方式，若超過授權期限即不能再使用

得分區塊練

- () 1. 每年財政部國稅局都會提供報稅程式讓納稅義務人下載使用，此項軟體是屬於下列何種軟體？ (A)公共軟體 (B)免費軟體 (C)共享軟體 (D)試用軟體。
- () 2. 下列哪一種軟體是將原始程式碼公開且允許他人使用與修改？ (A)免費軟體 (B)共享軟體 (C)自由軟體 (D)公用軟體。
- () 3. 下列何種行為是屬於著作權的合理使用？ (A)把從BBS上收集來的文章整理出版 (B)任意下載免費軟體 (freeware) (C)未經授權而把別人的文章註明出處貼上BBS (D)定期以電子報方式大量轉寄別人在BBS上發表的文章。
- () 4. 下列關於免費軟體 (freeware)、共享軟體 (shareware)、自由軟體 (free software) 之敘述，何者正確？
 (A)電腦廠商可以把從網路下載下來的自由軟體，燒錄成光碟販賣
 (B)共享軟體是因為原創者願意免費和別人分享軟體，才稱為共享軟體
 (C)免費軟體因為原創者已經免費提供別人使用，所以原創者不再擁有著作權
 (D)電腦廠商可以把從網路下載下來的免費軟體，與其他商業程式包裝成套裝軟體販賣。
- () 5. 下列敘述何者有誤？
 (A)免費軟體 (Freeware) 可完全免費使用，原設計者仍具其著作權
 (B)著作人格權是指著作創作人所擁有權利，不會因任何理由而改變，具有無法轉移的特性
 (C)購買單機版合法軟體，可因備份重製，同時可安裝在兩台電腦
 (D)共享軟體試用期滿應依規定付費。

註：根據著作權法第37條第3項「非專屬授權之被授權人非經著作財產權人同意，不得將其被授與之權利再授權第三人利用」，軟體購買者是不能再轉售軟體，除非該軟體有授權可自由轉售，若約定不明之部分，則推定為未授權。









二、創用CC 103 104 112

1. 創用CC：一種**授權聲明**，主要是使用標章與文字來標示授權範圍。
2. 目的：讓引用者了解如何在合法範圍內使用著作物，以促進網路資源的「分享」與「交流」。
3. 使用的標章說明如下：









標章	姓名標示 (BY)	禁止改作 (ND)	相同方式分享 (SA)	非商業性 (NC)
				
說明	使用時必須標示作者 (預設要標示)	不得改作作品	若改作作品，必須沿用原授權條款分享	不能用在商業目的

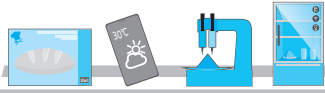
圖像記憶法

-  人像代表作者 → 標示作者姓名
-  等號代表分享前要等於分享後 → 不能改作
-  循環圖案有「回到原點」與「分享」的涵義 → 相同方式分享
-  禁止賣錢 → 禁止商業用途

- a. 「禁止改作 」與「相同方式分享 」互相牴觸，所以不會同時出現。
 - b. 以上4個標章共可組成 、、、、、 等6種授權條款。
 - c. 部分圖片、影音分享網站（如Flickr網路相簿、YouTube影音網站），皆可讓創作者使用創用CC授權，將作品分享給他人使用。
4. 標示CC0  的作品是採用「不保留權利」授權，可讓人無條件使用，且不可以撤回，意即授權後不得對該作品再主張權利。部分網站（如Pixabay、Unsplash）提供CC0授權的圖片，可讓網友在完全未經過許可的情況下，複製、修改、散布、商業利用這些圖片。
 5.  公眾領域標章（Public Domain Mark, PDM）：標示此標章之作品，不受著作權保護，可供大眾無償使用。

得分區塊練

- () 1. 小直是網路漫畫家，她希望授予網友引用自己作品的權利，但是不能任意改作或用在商業用途。請問她應該使用下列哪一種創用CC授權條款？
 (A)  (B)  (C)  (D) 。
- () 2. 下列哪一項是「創用CC」中的「制止改作 (ND)」標章？
 (A)  (B)  (C)  (D) 。



滿分晉級



情境素養題

▲ 閱讀下文，回答第1至2題：

政興是一位武俠小說迷，不論是金庸的射鵰英雄傳、天龍八部、古龍的楚留香傳奇、絕代雙驕等武俠小說作品，他都十分喜愛，多年的閱讀培養了他對武俠小說的創意，他自創一部短篇武俠小說－政興群俠傳，並發表在個人部落格中供網友觀賞，並使用創用CC標章，避免作品遭受侵權的問題發生。

- () 1. 政興在部落格上發表自己創作的武俠小說，請問他從何時開始擁有小說的著作權？
 (A) 通過經濟部智慧財產局核可後 (B) 小說上傳至部落格後
 (C) 小說出版後 (D) 小說著作完成後。 [6-1]
- () 2. 政興在部落格中使用了經濟部智慧財產局推動的「創用CC」標章，以減少侵權行為的發生。下列有關「創用CC」標誌的作用何者正確？
 (A) 標示著作物的授權範圍 (B) 避免著作遭他人篡改
 (C) 標示著作物的資料來源 (D) 禁止他人瀏覽自己的著作。 [6-2]
- () 3. 某網路書店想把暢銷書籍與雜誌的內容全部放在網路上供人瀏覽，針對上述情形，以下敘述何者正確？
 (A) 只有暢銷書籍不必取得授權 (B) 只有雜誌不必取得授權
 (C) 只有雜誌須事先取得授權 (D) 暢銷書籍與雜誌都須事先取得授權。 [6-1]
- () 4. 南韓一位男子搶先註冊登記sonycall.com等19個網域名稱，遭SONY公司提告，後來SONY公司成功取回這些網域名稱。根據上述，請問該男子侵犯了SONY公司哪一項智慧財產權？ (A) 專利權 (B) 著作權 (C) 商標權 (D) 營業秘密。 [6-1]
- () 5. 承旭為了證明曾經跟志玲相戀過，自行決定公開當初志玲寫的情書。根據上述情形，請問以下何者正確？
 (A) 承旭沒有侵害志玲的著作權，因為情書已經是承旭的
 (B) 承旭侵害志玲的著作權，因為只有志玲才有公開發表的權利
 (C) 承旭沒有侵害志玲的著作權，因為志玲並沒有去申請登記
 (D) 承旭侵害志玲的商標權，因為情書上有志玲的簽名。 [6-1]

精選試題

- $\frac{6-1}{\surd}$ () 1. 關於智慧財產權的描述，下列何者不正確？
 (A) 內容符合著作權法保護要件之影音、動畫、電腦程式等都受到智慧財產權的保護
 (B) 智慧財產權又稱為無體財產權
 (C) 商標專用權、著作權、專利權都屬於智慧財產權
 (D) 任何人都可以重製網頁上的文章與圖像而不違反著作權法。
- () 2. 下列何者最不會有觸犯著作權法的疑慮？
 (A) 自己購買的軟體隨意複製給他人使用
 (B) 將版權音樂製作成MP3，透過網路讓他人下載
 (C) 想看院線電影不用上電影院，網路上就可以下載
 (D) 家裡有兩台電腦都使用Windows作業系統，就要買兩套作業系統的版權。



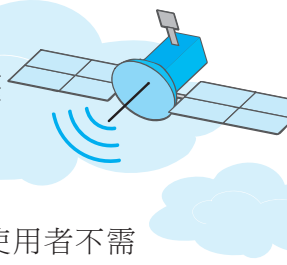


- () 3. 有關「著作權」之敘述，下列何者有誤？
 (A)需要向相關機關進行登記或註冊程式
 (B)目前保護的權利包括改作權、編輯權、出租權、散佈權等
 (C)著作人於著作完成時即自動享有著作權
 (D)區分為著作人格權與著作財產權。
- () 4. 下列四種行為，何者最不會有觸犯著作權法的疑慮？
 (A)抓取政府部門公開在網頁上的圖形，並貼製在自己的網頁上
 (B)將網路上搜尋到的音樂，轉寄給朋友使用
 (C)下載政府公告及申請表，並拷貝多份給友人
 (D)複製盜版電腦遊戲光碟，供自己使用，但沒有販賣行為。
- () 5. MP3是目前非常受歡迎的音樂檔案格式，使用時要特別注意下列哪個問題？
 (A)要先拷貝傳送給好朋友分享 (B)燒錄到光碟上以防遺失
 (C)使用學校的網路下載 (D)取得合法的使用權。
- () 6. 下列哪一項是智慧財產權最主要保護的範圍？
 (A)國家的利益 (B)消費者購買的權利 (C)創作者努力的結果 (D)消費者知的權利。
- () 7. 下列何者是指作品完成時即受到保護，他人未經授權不得任意引用？
 (A)隱私權 (B)商標權 (C)著作權 (D)公開權。
- () 8. 影響電腦工業最大的法律議題，下列何者正確？
 (A)售價統一，遵行不二價 (B)產品製程不良，售後服務差
 (C)軟體盜用，不尊重智慧財產權 (D)電腦科技進步快，消費者更新不及。
- () 9. 地下光碟複製工廠，拷貝光碟的行為，係違反下列何者有關智慧財產權的法律？
 (A)專利法 (B)商標法 (C)營業盜賣法 (D)著作權法。
- () 10. 在未經原作者同意的情況下，若在網路上轉貼或轉寄別人的文章，則下列敘述何者正確？
 (A)只是奇文共欣賞，互通有無的行為，並不違法
 (B)已經侵害作者的公開發表權和重製權
 (C)僅侵害作者的公開發表權
 (D)僅侵害作者的重製權。
- () 11. 若某學生將老師上課內容一字不漏且非常詳實做成的筆記，影印出售給其他同學，則下列敘述何者正確？
 (A)因為是學生抄的筆記，所以此學生就是著作人
 (B)依據辛勤原則，所以此學生可以出售得利
 (C)此學生已經侵害老師語文著作的重製權
 (D)因為是教育用途，所以此學生是合理使用老師的語文著作。
- () 12. 下列有關智慧財產權的敘述，何者正確？
 (A)學生可以不需經過上課教師的同意，自行錄下其上課內容並將之置於網上，供人下載
 (B)任意套裝軟體皆可自行安裝於數台電腦上
 (C)只要購買的是合法軟體，即可自行複製多份備份
 (D)著作權財產權存續於著作人之生存期間及死亡後五十年之內。



- () 13. 下列敘述何者有誤？
(A)著作權法允許公司可以契約約定員工「非職務上完成之著作」，其著作權應屬於公司所有
(B)某甲擔任著作人之助手，僅協助電腦打字及資料整理，故不算是著作權法所稱的著作人
(C)若雇主與受雇人（員工）無特別約定，則受雇人為著作人，但著作財產權屬於雇主
(D)員工下班後，在家為興趣從事創作，則著作人格權及著作財產權均屬於員工當事人。
- () 14. 下列選項何者具有著作權？
(A)法律條文 (B)舞蹈表演 (C)各類國家考試試題 (D)數學公式。
- () 15. 若某公司內部存在100名員工、50部個人電腦、20部印表機、且運作時須特定軟體「Windows」方可運作，則至少應採購幾套此一特定軟體的授權？
(A)20套 (B)1套 (C)100套 (D)50套。 [丙級軟體應用]
- () 16. 下列敘述何者有誤？
(A)著作形式可包含建築、電腦程式和表演等
(B)共同著作在著作財產權保護期間的計算，是從最後死亡之著作人死亡後50年
(C)著作財產權的行使、讓與或設定質權，若共有人間無特別約定，須得到全體著作財產權人同意
(D)著作權法除保護該著作之表達，也包含其所表達之思想、程序、概念及操作方法。
- () 17. 下列敘述何者不正確？
(A)作者可將著作財產權作全部或部分讓與
(B)若著作人（自然人）生前未發表，死亡後40年至50年才第一次公開發表，則保護期間為第一次公開發表後起算10年
(C)若微軟公司將Office的著作財產權賣給其他公司，新公司能要求國內Office的合法使用者，重新付費取得授權
(D)設計網頁時，若以研究、教學目的，而改製音樂、圖片，並加註出處，仍屬合理使用範圍。
- () 18. 著作權所享有的保護期間，為著作完成到著作人死亡後的多少年？
(A)20年 (B)10年 (C)40年 (D)50年。 [技藝競賽]
- () 19. 下列何種情形並未視為侵害著作權或製版權？
(A)明知為盜版軟體，仍作營利之用
(B)輸出未經著作財產權人或製版權人授權重製之重製物
(C)於公開場合播放自Netflix需付費才可觀賞的影片
(D)經著作財產權人同意，引用著作人之著作。
- () 20. 下列哪一種行為，可能侵犯到他人的著作權？ (A)拷貝DVD電影，並分享給網友下載 (B)在他人的部落格留言 (C)瀏覽網友的網路相簿 (D)使用明星的名字當暱稱。
- () 21. 下列哪一種行為最不可能觸犯著作權法的規定？
(A)將「我是歌手」節目的音樂上傳至部落格中，供網友下載
(B)自行拍攝家中寵物，並將影片放在網站中供網友瀏覽
(C)拷貝電影DVD的內容，贈好友觀賞
(D)將小說內容輸入至部落格中，供網友瀏覽。





- 6-2 () 22. 下列關於公共軟體 (Public Domain Software) 的敘述何者不正確？ (A) 使用者不需付費 (B) 仍受著作權保護 (C) 使用者可以複製 (D) 可以同時在多台電腦使用。
- () 23. 關於軟體類型和其授權的描述，下列何者不正確？ (A) 一般來說，軟體授權可分為單一授權與集體授權 (B) 已經超過著作權保護年限的軟體是一種自由軟體 (C) 免費軟體是一種不需任何費用即可使用的軟體，但軟體本身仍具有著作權 (D) 有一軟體基於先試用策略，允許使用者不須付費試用一段期間，但試用期滿須付費購買才能取得合法使用權，這軟體是一種共享軟體。 [技藝競賽]
- () 24. 有一種類型的軟體，本身享有著作權保護，但可藉由發佈通用公共授權 (General Public License) 的形式，允許使用者對該軟體進行重製、散佈與修改。此種類型的軟體稱為： (A) 商業試用軟體 (B) 自由軟體 (C) 共享軟體 (D) 公共領域軟體。
- () 25. 下列何種行為不會違反著作權法？
 (A) 將市售CD借給同學拷貝使用
 (B) 將網路下載的圖片放在社團的網頁上
 (C) 在個人網頁上寫作介紹別人的文章
 (D) 傳送共享軟體 (Shareware) 給朋友。
- () 26. 下列哪一種軟體具有著作權，可以下載及使用，若使用人認為適用，則應繳費予原作者始可取得合法使用權？
 (A) 免費軟體 (freeware)
 (B) 共享軟體 (shareware)
 (C) 公用軟體 (public domain software)
 (D) 公開原始碼軟體 (open source software)。
- () 27. 下列何種軟體不具著作權，使用者不必付費即可複製、使用？
 (A) 公用軟體 (Public Domain Software) (B) 專利軟體 (Proprietary Software)
 (C) 免費軟體 (Freeware) (D) 共享軟體 (Shareware)。
- () 28. 下列哪一種軟體，其作者擁有著作權，但一般人無須付費即可永久合法使用？
 (A) 共享軟體 (B) 免費軟體 (C) 公共軟體 (D) 特用軟體。
- () 29. 下列何者不屬於侵害智慧財產權的行為？
 (A) 自行將免費軟體 (freeware) 放在書中搭售
 (B) 將所購買軟體用燒錄機複製一份，以保護原版光碟片
 (C) 將所購買單機版軟體，同時安裝在家中兩台電腦中使用
 (D) 更改所購買軟體之安裝程式，使之不用輸入授權碼即可安裝使用。
- () 30. 下列敘述何者屬於著作權的合理使用範圍？
 (A) 將正版或備份版軟體借給他人使用
 (B) 聆聽演講時，自行錄音並放至網路
 (C) 將電子新聞，透過該網站轉寄給他人
 (D) 自由重製、傳播免費軟體 (Freeware) 及共享軟體 (Shareware)。
- () 31. 有關「電腦軟體程式之著作」，下列敘述何者不正確？
 (A) 電腦程式也是著作的一種
 (B) 購買正版軟體，是取得該軟體光碟的所有權及著作權
 (C) 軟體工程師與僱主間若無特別約定，則程式的所有權是屬公司
 (D) 共享軟體仍享著作權的保護。





- () 32. 下列敘述何者不屬於著作權的合理使用範圍？ (A)老師為授課需要，公開朗讀其他學術論文的一部分 (B)將工具軟體下載整合至光碟內並借人使用 (C)擔心CD磨損，而燒錄備份保存 (D)自由重製、傳播公共軟體。
- () 33. 製作成免安裝形式的軟體稱為？ (A)綠色軟體 (B)免費軟體 (C)版權軟體 (D)公用軟體。

統測試題

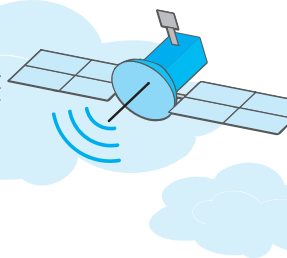
- () 1. 下列哪一類軟體，具有著作權，亦屬於開放原始碼，使用者可以任意複製、修改或銷售？ (A)公用軟體 (B)免費軟體 (C)共享軟體 (D)自由軟體。 [102商管群]
- () 2. 下列何種行為不違反著作權法？ (A)蒐集他人部落格文章出書銷售 (B)影印整本原文書 (C)考生下載四技二專聯招考古題閱讀 (D)使用網路上的盜版軟體及序號。 [102工管類]
- () 3. 下列有關著作權的敘述，何者正確？ (A)在部落格中以「超連結」方式連結他人的著作，不會有重製他人著作的問題 (B)將有版權且未經授權的音樂檔放在部落格播放，只是分享而非營利，這不是違法行為 (C)在部落格上發表自己撰寫的文章，無法受著作權法的保護 (D)以點對點 (Peer-to-Peer) 通訊方式交換未經授權的軟體，不會有侵權問題。 [102資電類]
- () 4. 如圖 (一) 所示的創用CC授權條款，所代表的授權內容是下列哪一種？ (A)姓名標示－非商業性－相同方式分享 (B)姓名標示－非商業性－禁止改作 (C)姓名標示－商業性－相同方式分享 (D)姓名標示－商業性－禁止改作。 [103商管群]



圖 (一)

- () 5. 下列關於自由軟體 (Free Software) 的敘述，何者正確？ (A)允許使用者自由下載、複製與散佈 (B)因為自由，所以不可以買賣 (C)與免費軟體 (Freeware) 相同，一定都是免費的 (D)自由軟體中的「自由」指的是沒有著作權。 [103商管群]
- () 6. 某人在網路相簿分享了一張自己拍攝的日出照片，請問該作者何時可以擁有該照片的著作權？ (A)傳的相片核准刊登時 (B)作者在網路相簿標註「版權所有」的時候 (C)跟智慧財產局申請時 (D)作者拍攝完這張照片的時候。 [103商管群]
- () 7. 下列何種軟體授權必須開放原始碼？ (A)公共財軟體 (public domain software) (B)免費軟體 (freeware) (C)共享軟體 (shareware) (D)自由軟體 (free software)。 [103工管類]
- () 8. 關於網路上程式軟體的授權，下列敘述何者正確？ (A)免費軟體 (Freeware) 會提供原始的程式碼 (Source Code) 並可未經授權任意修改 (B)依GPL (General Public License) 精神，使用者可以自由使用、複製、散佈與修改的軟體，稱為自由軟體 (Free Software) (C)共享軟體 (Shareware) 就是使用者可免費使用但不可以複製與散佈的軟體 (D)公共財軟體 (Public Domain Software) 就是政府提供給大眾使用的軟體。 [103資電類]













- ()9. 下列何者為創用CC (Creative Commons) 之「姓名標示」標章？
 (A)  (B)  (C)  (D) 。 [104商管群]
- ()10. 下列對自由軟體 (Free Software) 及免費軟體 (Freeware) 的敘述何者正確？
 (A)自由軟體原始碼不公開
 (B)免費軟體原始碼公開
 (C)自由軟體可以任意修改
 (D)免費軟體可以任意修改。 [105工管類]
- ()11. 圖 (二) 為創用CC (Creative Commons) 之何種標章？
 (A)姓名標示 (B)禁止改作 
 (C)非商業性 (D)相同方式分享。 圖 (二) [105工管類]
- ()12. 下列何者為使用GPL (General Public License) 方式發行的作業系統？
 (A)Linux (B)macOS (C)FileZilla (D)OpenOffice.org。 [105工管類]
- ()13. 下列何種創用CC (Creative Commons) 授權條款，採用如圖 (三) 之授權標誌？
 (A)姓名標示—相同方式分享 (B)姓名標示—禁止改作
 (C)姓名標示—禁止改作—相同方式分享 (D)姓名標示—非商業性。 [105資電類]



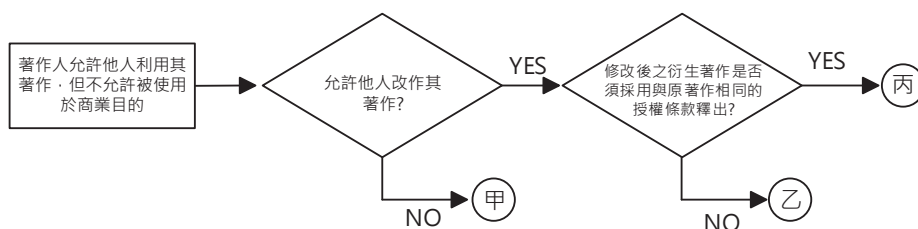
圖 (三)

- ()14. 下列關於資訊安全的敘述，何者正確？
 (A)某網站網址 (URL) 若以https開頭，表示該網站主要以SET作為安全機制，會將使用者的資料加密
 (B)FTP為一種電子安全交易的標準，可以提供網路線上刷卡交易時的保障
 (C)六種創用CC授權條款中，都包含有姓名標示 (Attribution) 要素
 (D)一般文字檔 (*.txt) 容易感染電腦蠕蟲 (Worm)。 [106資電類]
- ()15. 下列關於軟體授權的敘述，何者錯誤？
 (A)通常商業軟體是需要經過註冊授權後才能合法使用
 (B)通常免費軟體的開發者不開放原始碼，但可免費使用
 (C)自由軟體是可以免費取用，沒有著作權而可以自由修改後註冊專利
 (D)共享軟體的開發者不開放原始碼，允許使用者不用付費就能試用。 [106工管類]
- ()16. 有關創用CC授權條款的標示，下列何種授權組合不存在？
 (A)姓名標示、相同方式分享、禁止改作
 (B)姓名標示、相同方式分享
 (C)姓名標示、非商業性、相同方式分享
 (D)姓名標示、非商業性、禁止改作。 [106工管類]
- ()17. 下列哪一個授權條款允許使用者重製、散布、傳輸著作 (包括商業性利用)，但不得修改該著作，使用時必須按照著作人指定的方式表彰其姓名？
 (A)  (B)  (C)  (D) 。 [107工管類]
- ()18. 下列哪一個軟體會連同程式原始碼一併釋出？
 (A)CorelDRAW (B)FireFox (C)Illustrator (D)WinZip。 [108工管類]
- ()19. 下列何者是創用CC (Creative Commons) 之「相同方式分享」標章？
 (A)  (B)  (C)  (D) 。 [108工管類]



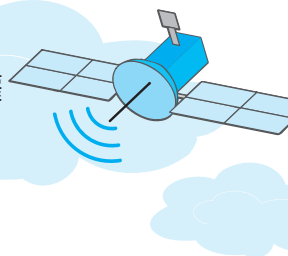


- () 20. GitHub為知名的開放式軟體（Open Source）網站，其中的開放式軟體專案都可以下載得到原始程式碼，關於此原始程式碼的敘述何者正確？
 (A)此原始程式碼因為已經開放下載，因此該專案裡面的演算法不受到專利權的保護
 (B)任何人都可以將自己的程式碼上傳到GitHub中，並宣告程式碼的授權方式
 (C)GitHub網站中的原始程式碼的作者已經不具有著作權
 (D)曾經在GitHub網站中貢獻原始程式碼的作者，可以下載其他人的程式碼，使用在任何場合，不須經過其他人的授權。
 [109資電類]
- () 21. 下列何者行為觸犯著作權法的風險最高？
 (A)為了要開啟教育部寄來以Open Document Format（簡稱ODF）開放文件格式儲存的公文電子檔，導師從國家發展委員會的官方網站下載並安裝「國家發展委員會ODF文件應用工具」軟體
 (B)某生使用智慧型手機錄影功能，將自費購入的藍光DVD完整內容翻拍轉存成開放格式的視訊影片檔，轉寄給好同學免費觀看
 (C)為了考取公職，某生從考選部官方網站下載歷屆高普考試題，拿到影印店輸出裝訂成冊，順便賣給同學
 (D)某生自行開發了一套100%原創的手機APP遊戲軟體，同學試玩過後都說好玩、有賣點，於是某生便把該自創的手機APP遊戲軟體上傳到網路社群平台上販售。
 [109工管類]
- () 22. 下列哪種軟體也稱為綠色軟體（Green Software）？
 (A)共享軟體 (B)自由軟體
 (C)防毒軟體 (D)可攜式軟體。
 [110工管類]
- () 23. 創用CC有四個授權要素：① ② ③ ④ ，請問下列哪項組合不能同時出現在授權條款中？
 (A)③④ (B)②③ (C)①② (D)①③。
 [110工管類]
- () 24. 下列哪一種軟體類型為免費且不具有著作權？
 (A)免費軟體（Freeware） (B)共享軟體（Shareware）
 (C)自由軟體（Free Software） (D)公用軟體（Public Domain Software）。
 [111商管群]
- () 25. 有些創作者樂於見到自己的創作物在外界流通，更歡迎大眾複製、散布或修改，於是創用CC（Creative Commons）的概念便因此誕生。若著作人依圖（四）之流程及其中的判斷條件來決定其著作授權方式，則該圖中所示之甲、乙、丙分別對應到何種創用CC的標章？
 (A)甲：、乙：、丙：
 (B)甲：、乙：、丙：
 (C)甲：、乙：、丙：
 (D)甲：、乙：、丙：。
 [111工管類]



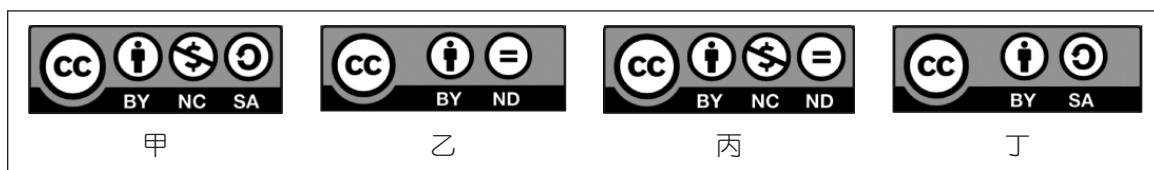
圖（四）





- () 26. 關於自由軟體的敘述，下列何者正確？
 (A)受著作權保護且一定都是免費的
 (B)Keynote屬於自由軟體性質的簡報軟體
 (C)Calc屬於自由軟體性質的電子試算表軟體
 (D)PaintShop Pro屬於自由軟體性質的影像處理軟體。 [112商管群]

- () 27. 某學會設計了活動的圖示，預計授權給相關團體的推廣活動加以使用，但要求此活動圖示須標示該學會的作者姓名，可加入自己的元素但必須沿用原授權條款提供分享及不能用在商業用途。依創用授權條款，其CC授權標章為圖（五）中的何者？
 (A)甲 (B)乙 (C)丙 (D)丁。 [112商管群]



圖（五）

- () 28. 某些軟體基於推廣使用，開放提供部分或完整功能，若有一套軟體依據通用公共授權條款（General Public License）開放其原始碼，使用者亦可以重製、修改及散布，此軟體歸類為下列哪一項授權類型？
 (A)自由軟體 (B)共享軟體 (C)免費軟體 (D)公用軟體。 [112工管類]

- () 29. 陳生是藝術設計系的學生，設計了一系列精美的畫作，並決定把這些作品公開在網路上，採用創用CC釋出，希望利用人可以依指定的方式表彰姓名，用於非商業性用途及以相同方式分享。陳生應標示何種創用CC核心授權條款？
 (A) (B) (C) (D) 。 [112工管類]

- () 30. 著作權法對權利人的作品及資料庫，提供著作權保護。「公眾領域貢獻宣告」（CC0）開放大眾使用，釋出公眾領域，讓其他人可以任何目的自由地以該著作為基礎，從事創作、提升或再使用等行為，下列關於CC0之敘述何者錯誤？
 (A)CC0是一種「不保留權利」的授權選擇，任何人都可以使用該作品
 (B)CC0能讓權利人選擇不受著作權以及資料庫相關法律保護的方式
 (C)改作CC0釋出作品時，必須標示姓名，授權要素與CC條款皆相同
 (D)CC0是不可以撤回的，意即授權後，事後不得對該作品再主張權利。 [112工管類]

- () 31. 有關軟體的敘述，下列哪一些正確？
 ①Adobe Reader是免費軟體（freeware）
 ②OpenOffice 是自由軟體（free software）
 ③自由軟體不須買賣都能免費自由使用
 ④公用軟體（public domain software）不具有著作權，使用者不須付費即可複製使用
 (A)①②③ (B)①②④ (C)①③④ (D)②③④。 [113商管群]





- () 32. 圖（六）創用CC（Creative Commons）授權標章所代表之授權條款為何？
 (A)姓名標示、非商業性、禁止改作
 (B)姓名標示、不限制商業性、禁止改作
 (C)姓名標示、非商業性、相同方式分享
 (D)姓名標示、不限制商業性、相同方式分享。



圖（六）

[113工管類]



- () 33. 下列哪一個情境屬於著作權中的「合理使用」？
(A) 下載一部院線電影並上傳到自己的網站，供大眾免費觀看
(B) 為朋友的商業網站置放一首受版權保護的歌曲，當作背景音樂
(C) 在課堂上播放一小段影片片段，並用於教學討論，且未對外公開
(D) 將一張知名攝影師的作品做細微修改後，用於自己的商業網站首頁。 [114商管群]
- () 34. 假設警政署有①至④工作任務需要完成，下列與任務相關之軟體授權敘述何者正確？
任務①：撰寫程式來抓取網路資料
任務②：發行一個報案APP
任務③：製作警政署的宣傳影片
任務④：協助署長製作月會簡報
(A) 任務①撰寫之程式屬於自由軟體，開放原始碼修改權
(B) 任務②發行之報案 APP 開放免費使用，屬於免費軟體
(C) 任務③製作之影片屬於公共財產權，可公開展示與傳播
(D) 任務④製作之簡報以私有軟體產出，故該私有軟體開發商擁有著作權。 [114商管群]
- () 35. 小明與阿美在共同撰寫學習歷程檔案的小論文時，應如何合法使用他人創作的內容？
(A) 只要不作商業用途即可隨意使用
(B) 隨意修改內容再標註自己的名字
(C) 使用翻譯工具重新表述後可視為原創
(D) 引用時標明來源並符合合理使用範圍。 [114工管類]
- () 36. 某人憑一己之力開發出一套新遊戲，在未向相關機關登記前，該作品受我國下列何項法規保護？ (A) 商標法 (B) 專利法 (C) 著作權法 (D) 個人資料保護法。 [114工管類]
- () 37. 某人計劃釋出自行設計的一套軟體，將採行姓名標示、非商業性、禁止改作，應使用下列哪個創用CC (Creative Commons) 標示？
(A)  (B)  (C)  (D) 。 [114工管類]
- () 38. 下列行為何者不違反著作權法？
(A) 影印全書僅供個人使用
(B) 蒐集社群網路美圖出版販售
(C) 購買與使用他人破解的軟體序號
(D) 下載與列印公務人員高等考試試題供朋友參考。 [114工管類]

